




Ecris les égalités.



.....

.....

.....

Ecris le résultat en chiffre.

un      deux      trois      quatre      cinq      six  
          sept      huit      neuf      dix

<i>cinq + trois = .....</i>	<i>sept + un = .....</i>
<i>six + quatre = .....</i>	<i>deux + quatre = ....</i>
<i>huit + un = .....</i>	<i>deux + sept = .....</i>
<i>quatre + cinq = .....</i>	<i>trois + trois = .....</i>


Dessine les billes, colorie le couvercle et dessine comme Dédé.

7 -> ->

9 -> ->

Complète. Dessine les billes dans l'autre boîte si nécessaire.

Il y a 7 billes dans la boîte.



..... + ..... = 10



Il y a 6 billes dans la boîte.




..... + ..... = 10



Il y a 2 billes dans la boîte.



..... + ..... = 10



Il y a cinq billes dans la boîte.



..... + ..... = 10



Dessine comme Dédé.