


RALLYE 2007	PARCOURS 3 Heure d'ouverture de l'enveloppe secours : 17 H 30	EQUIPAGE N°
----------------	--	-------------

Barème sur :28x10pts pour les questions + 100 points pour l'enveloppe non ouverte = 380 points

Principe de l'épreuve : Trouvez votre itinéraire par rapport aux photos et répondre aux questions . Quand le site correspond à un moulin remplir le tableau des moulins (tableau n°2) sinon indiquez vos réponses dans le tableau n°1.
Pour découvrir le lieu exact de la fin de ce parcours il faudra faire un calcul en utilisant les réponses du tableau n°1 .Ce calcul correspond a une case de la carte qu'il sera possible de visualiser sur le site n°9.(il faut donc la laisser sur place)

(Sa maison)

Tableau n°1



N° du site	Questions	Réponses	Lettres du Calcul
1	Quelle est l'année mentionnée sur ce monument ?	1933	A
3	Ces deux personnages ont été accueilli dans sur ce site , qui sont-ils (attention l'accès au château est strictement interdit)? 	Louis 14 Pape Pie 7	B C
5	Rendez dans La Grand Cour du village et donnez nous la date renversée	1634	D
8	Trouvez sa maison de résidence .Quel est le nom de cette personne ?Combien d'années a-t-il vécu ici ?	Jean Feugereux 25 ans	E
9	Quel est le nom de l'artiste de cette œuvre? En quelle année a-t-elle été terminée ?	Paule Adeline 2007	F

Voila comment procéder pour découvrir le lieu exact de la fin du parcours :

Cumulez les chiffres de vos réponses (ex : 1432= 1+4+3+2 soit 10) puis faites le calcul suivant :
réponse A - réponse B - réponse C = Ligne a repérer sur la carte

Réponse D - réponse E + réponse F + 7 = Colonne a repérer sur la carte

Tableau n°2

	Nom du moulin et sa commune ?	Moulin tour ou pivot ?	Ailes a toiles ou à planches ?	Classé monument Historique ?	Si oui , en quelle année ?
	Moulin du Mont de Maisons	Pivot	Toiles	non	
	Le grand moulin de Ourville	Pivot	planches	oui	1941
	Le Moulin du Chesnay à Moutiers en Beauce	Pivot	planches	oui	1988
	Le moulin de la Garenne	Pivot	planches	oui	1987